



ریاضی دوم دبستان

عدد و رقم

عدد و شمارش (۱)


سؤال

۱- شکل زیر چند گل است؟ تعداد آن را با چوب خط نشان

دهید.



۲- هر کدام از شکل‌ها چه عددی را نشان می‌دهد؟



(الف)



(ب)



(ج)





کشف کنید

در شمردن اشیا و اشکال باید به ترتیب بشمارید و تمام آن‌ها را فقط یک بار شمارش کنید، آخرین عددی که بیان کردید، تعداد اشیا است.



پاسخ:
-)

۲- الف) ۶

ب) ۱۱

ج) ۸





ریاضی دوم دبستان

عدد و رقم

عدد و شمارش (۲)

سؤال:

۱- ساعت چند است؟



ج) 8.8

ب) 7.7

الف) 6.6

۲- با توجه به شکل، عبارت زیر را کامل کنید و از دو طرف بخوانید.



کارت
۲



ریاضی دوم دبستان

عدد و رقم

عدد و شمارش (۲)

پاسخ:

-) ب) ۷، ۶

-۲ $۸ < ۱۲$

از راست به چپ: ۱۲ بیشتر از ۸ است.


از چپ به راست: ۸ کمتر از ۱۲ است.

کارت
۲



سؤال:

۱- با توجه به شکل جاهای خالی را پر کنید.



به عدد:

به حروف:

۲- ۹ ده تایی و ۳ یکی را ... می نویسیم و ... می خوانیم.

۳- الف) ۶۷ یعنی، ... ده تایی و ... یکی.

ب) ۴۶ یعنی، ... یکی و ... ده تایی.





ریاضی دوم دبستان

عدد و رقم

دسته‌های ده‌تایی
و یکی (۱)

پاسخ:

۱- ۵ دسته‌ی ده‌تایی و ۵ یکی

ده‌تایی	یکی
۵	۵

به عدد: ۵۵

به حروف: پنجاه و پنج

۲- ۹۳ می‌نویسیم و نود و سه می‌خوانیم.

۳- الف) ۶- ۷

ب) ۶- ۴





رشته دوم دبستان

«عدد و رقم»
دسته‌های ده‌تایی
و یکی (۲)

سؤال:

۱- قبل و بعد اعداد زیر را بنویسید.

۹۰ - - ۶۰ - - ۴۰ - ...

پنجاه - شصت - - نود

...، ۴۵، ...

...، ۸۹، ...

۲- با دو کارت ۳ و ۶، عددهای دو رقمی بسازید.

۳- با رقم‌های ۴ و ۲ عددهای دو رقمی بنویسید.

۴- عدد دو رقمی بنویسید که رقم یکان آن ۷ و رقم دهگان آن ۳ تا کمتر از یکان آن باشد.

۵- سه عدد دو رقمی بنویسید که یکی آن‌ها ۲ و ده‌تایی آن‌ها بیشتر از ۶ باشد.





ریاضی دوم دبستان

عدد و رقم

دسته‌های ده‌تایی
و یکی (۲)

پاسخ:

۱- ۳۰ - ۴۰ - ۵۰ - ۶۰ - ۷۰ - ۸۰ - ۹۰

-۱

پنجاه - شصت - هفتاد - هشتاد - نود

۴۴، ۴۵، ۴۶

۸۸، ۸۹، ۹۰

۲- ۶۳ - ۳۶

۳- ۲۴ - ۴۲ - ۲۲ - ۴۴

$۷ - ۳ = ۴$	دهگان	یکان
	۴	۷

۴- ۴۷

۵- ۷۲ - ۸۲ - ۹۲

کارت
۴



سؤال:

۱- در ظرفی ۲۲ میوه وجود دارد، ۵ تا از آن‌ها خیار، ۷ تا سیب، ۴ تا هلو و بقیه گلابی است. تعداد گلابی‌ها را با شکل نشان دهید.
* در ظرف ... گلابی وجود دارد.

۲- امروز روز پانزدهم ماه است. ۴ روز قبل چه روزی از ماه بوده است؟ روز ... ماه است.

۳- مینا ۷ سال دارد. ۱۲ سال بعد چند ساله می‌شود؟
مینا ... ساله می‌شود.



کته نکته

بعضی از مسئله‌ها را با کشیدن شکل‌های ساده حل می‌کنند.

پاسخ:



۱-



در ظرف ۶ گلایی وجود دارد.

۲-



روز یازدهم ماه بوده است.

۳-



مینا ۱۹ ساله می‌شود.



سؤال:

۱- کدام یک از شکل‌های زیر، جمع عدد ۸ را نشان می‌دهد؟

الف)



ب)



ج)



د)



۲- حاصل جمع‌ها را به دست آورید.

$$۴۰ + ۲۰ + ۱۰ + ۵ + ۵ + ۳ =$$

$$۵۰ - ۱۰ + ۲۰ + ۵ - ۵ =$$

$$۶۰ + ۳۰ - ۱۰ + ۶ + ۴ =$$

۳- حاصل عبارت زیر را با استفاده از محور به دست آورید.

$$۱۲ - ۷ + ۵ =$$



$$۴ + ۴ = ۸$$

الف)

(الف) ج

$$۳ + ۵ = ۸$$

ج)

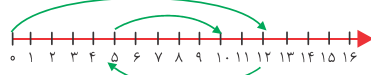
-۲

$$۴۰ + ۲۰ + ۱۰ + ۵ + ۵ + ۳ = ۸۳$$

$$۵۰ - ۱۰ + ۲۰ + ۵ - ۵ = ۶۰$$

$$۶۰ + ۳۰ - ۱۰ + ۶ + ۴ = ۹۰$$

-۳



$$۱۲ - ۷ + ۵ = ۱۰$$



ریاضی دوم دبستان

عدد و رقم

شمارش چندتا
چندتا

سؤال:

۱- الگوهای عددی و تصویری زیر را کامل کنید.

الف) ۴, ۸, (الف)

ب) ۰۰۰۰۰۰ و ۰۰۰۰۰۰ و ۰۰۰۰۰۰ و ۰۰۰۰۰۰ (ب)

۲- در شمارش ۹ تا ۹ تا، بعد از عدد ۱۸ چه عددی است؟

۳- دو عدد بعدی را با رسم چوب خط ادامه دهید.

۷, ۱۴, (الف)





ریاضی دوم دبستان

عدد و رقم

شمارش چندتا چندتا

پاسخ:

(الف) ۲۰ و ۱۶ و ۱۲ و ۸ و ۴

(ب) $000000, 000000, 000000, 000000, 000000, 000000, 000000, 000000, 000000, 000000$

۹, ۱۸, ۲۷

-۲

۷, ۱۴, ۲۱, ۲۸

-۳





سؤال:

۱- با توجه به ساعت، جمله‌های زیر را کامل کنید.



ساعت از ... گذشته است.

کمی به ساعت ... مانده است.

۲- با توجه به گوی ساعت‌ها، ساعت (د)، چه ساعتی را نشان

می‌دهد؟



الف

ب

ج

د





پاسخ:

۱- ساعت از ۳ گذشته است.
کمی به ساعت ۷ مانده است.

۲- الگوی عددی ۳ تا ۳ تا ۳ است.

۳، ۶، ۹، ۱۲



ساعت ۱۲ را نشان می‌دهد.



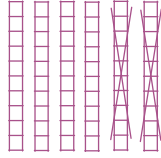


ریاضی دوم دبستان

جمع و تفریق
اعداد دو رقمی
جمع و تفریق
دو تایی (0)

سؤال:

۱- کدام عبارت مربوط به شکل زیر است؟



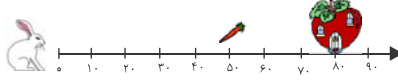
الف) $60 - 20 = 40$

ب) $40 + 20 = 60$

۲- آقا خرگوشه برای رسیدن به هویج، چندتا ده تایی روی

محور می‌پرد. چندتا ده تایی دیگر بپرد تا به خانه برسد؟

روی محور نشان دهید.



کارت
۹



ریاضی دوم دبستان

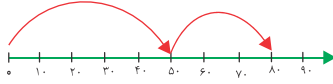
جمع و تفریق
اعداد دو رقمی

جمع و تفریق
ده تایی (۱)

پاسخ:
(الف)

$$۶۰ - ۲۰ = ۴۰$$

-۲



توضیح

خرگوش، ۵ ده تایی می پرد تا به هویج برسد.

۳ تا ده تایی دیگر بپرد به خانه می رسد.

کارت
۹



ریاضی دوم دبستان

جمع و تفریق
اعداد دو رقمی
جمع و تفریق
ده تایی (۲)

سؤال:

جاهای خالی را پر کنید و حاصل تساوی‌ها را به دست آورید.

الف) ۴ دسته ده تایی منهای ۳ دسته ده تایی می‌شود

... دسته ده تایی.

یعنی

$$\text{یک ده تایی} - \text{یک ده تایی} = \text{یک ده تایی}$$

ب) ... دسته ده تایی به اضافه ... دسته ده تایی

می‌شود ۵ دسته ده تایی.

یعنی:

$$۲۰ + ۳۰ = \dots$$

کارت
۱۰



ریاضی دوم دبستان

جمع و تفریق
اعداد دو رقمی
جمع و تفریق
ده تایی (۲)

پاسخ:

الف) ۴ دسته ده تایی منهای ۳ دسته ده تایی می شود ۱

دسته ده تایی.

$$40 - 30 = 10$$

یعنی:

ب) ۲ دسته ده تایی به اضافه ۳ دسته ده تایی می شود ۵

دسته ده تایی.

$$20 + 30 = 50$$

یعنی:

کارت
۱۰